

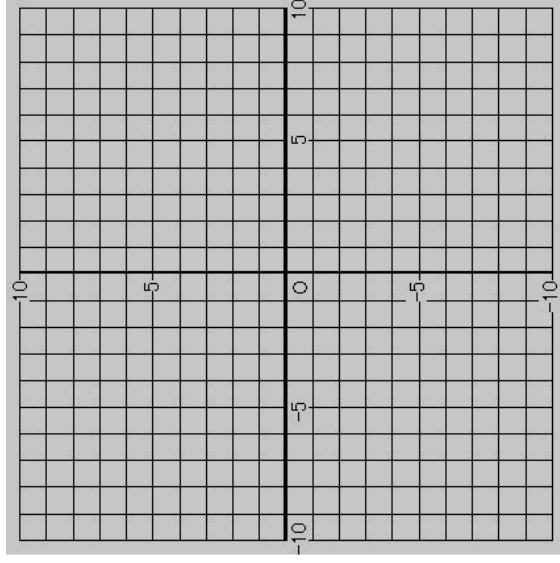
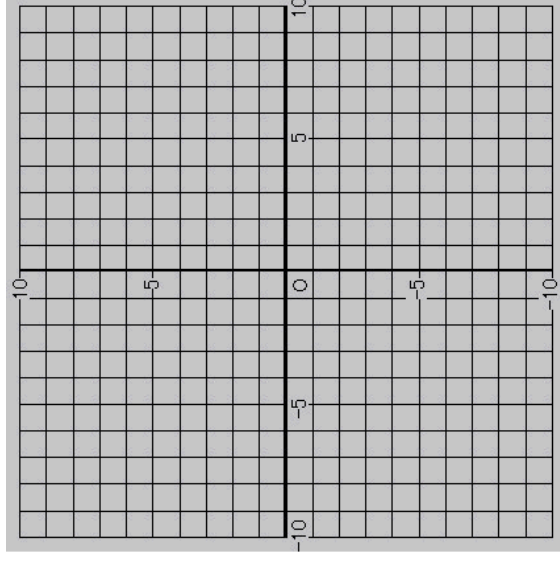
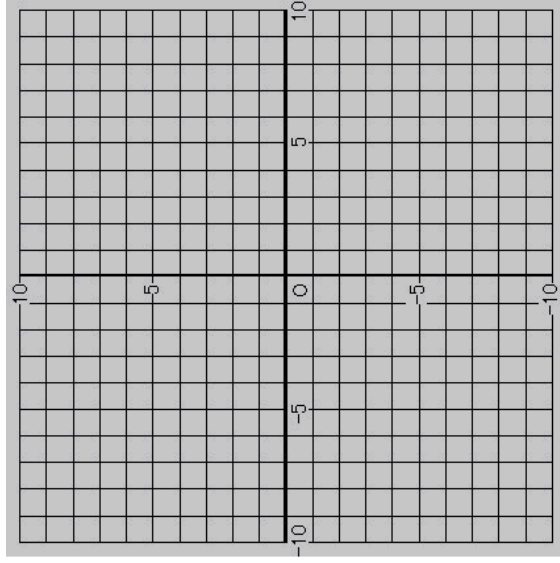
座標を使って絵を描こう！

問1．次の座標の点を順に線で結んでいってみましょう。

$(-5, 1) \rightarrow (5, 1) \rightarrow (-4, -6) \rightarrow (0, 5) \rightarrow$

$(4, -6) \rightarrow (-5, 1)$

1年 組 番 氏名



問2．今度は自分で座標を使ってオリジナルの

作品を作ってみましょう。もし座標がたりない場合は自分で追加してください。

座標平面は真ん中と、右にあるものを作
業用に使いましょう。

タイトル名:

(,) → (,) → (,) →
 (,) → (,) → (,) →
 (,) → (,) → (,) →
 (,) → (,) → (,) →
 (,) → (,) → (,) →
 (,) → (,) → (,) →

タイトル名:

(,) → (,) → (,) →
 (,) → (,) → (,) →
 (,) → (,) → (,) →
 (,) → (,) → (,) →
 (,) → (,) → (,) →
 (,) → (,) → (,) →