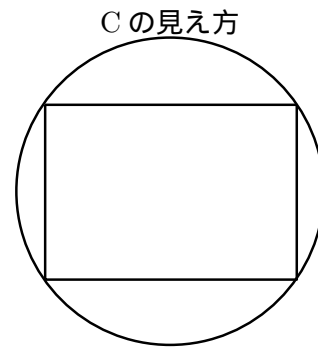
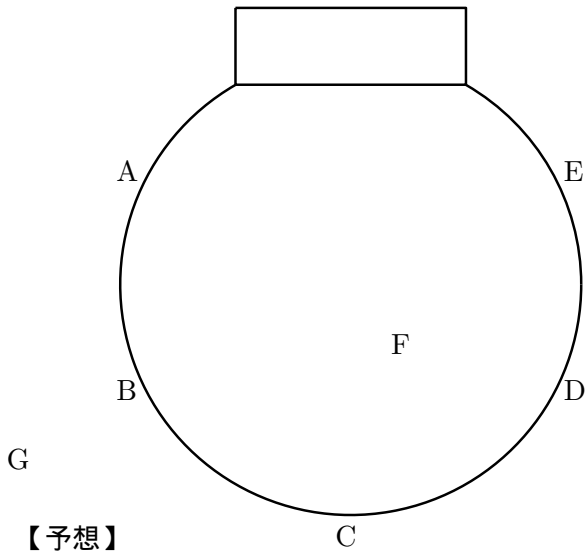


サッカーゴールと5円玉 レポート用紙

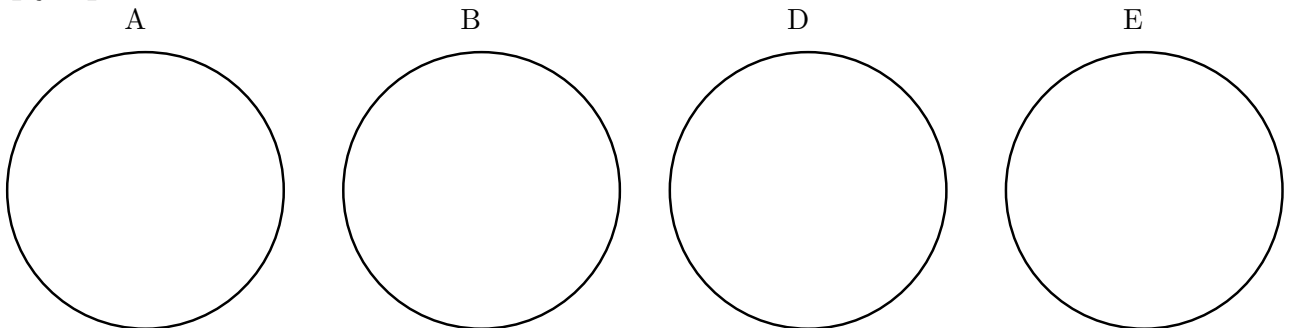
3年 組 番 氏名 _____

Cから5円玉の穴を通してサッカーゴールを正面に見て，その見方で場所を変えたときのサッカーゴールの見え方を予想してみよう！

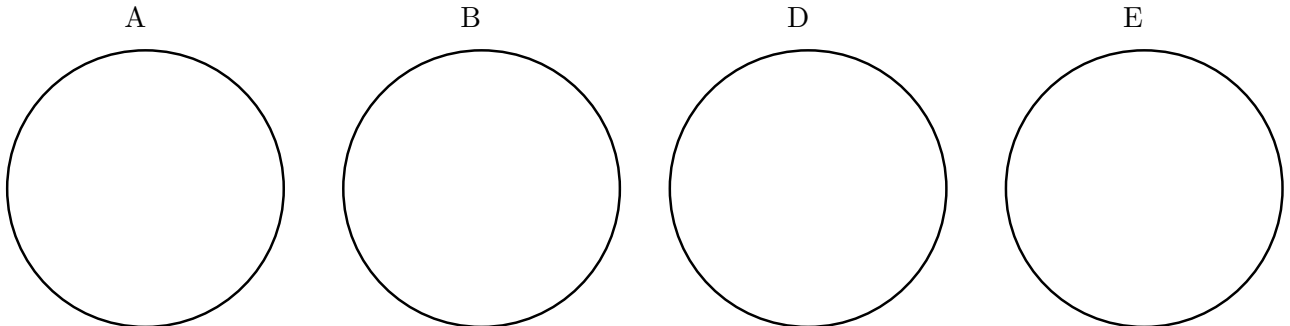


この見え方になるような5円玉の位置を探し、各地点に移動したときサッカーゴールがどう見えるかを調べる。

【予想】



【結果】



【感想】(FとGからどう見えたかも記録しよう！)