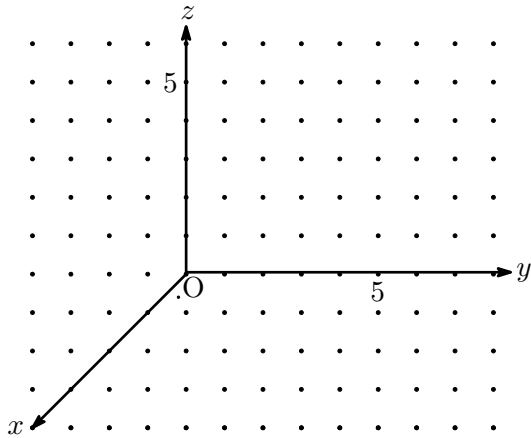


# 座標空間

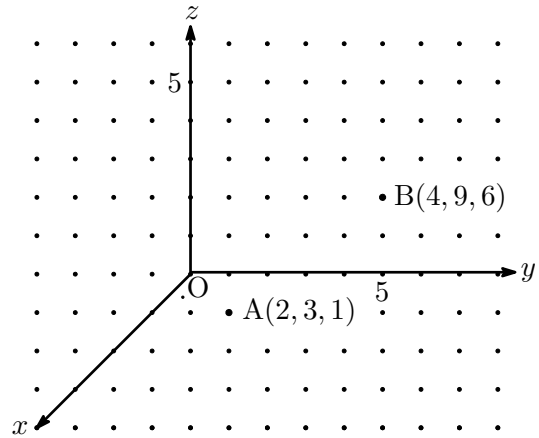
HRNO \_\_\_\_\_

氏名 \_\_\_\_\_

問. 点  $P(3, 4, 5)$  を書き, 線分  $OP$  を対角線とする直方体を図示しなさい。



問. 線分  $AB$  を対角線とする直方体を図示しなさい。

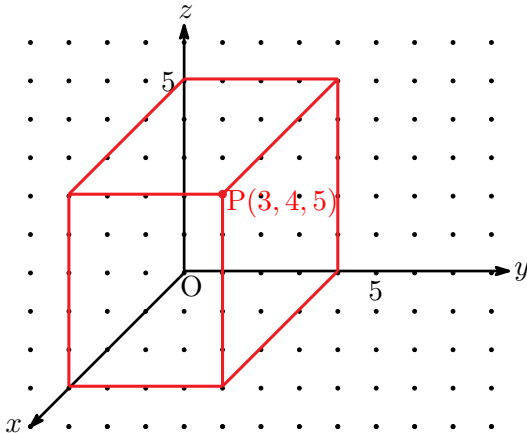


# 座標空間

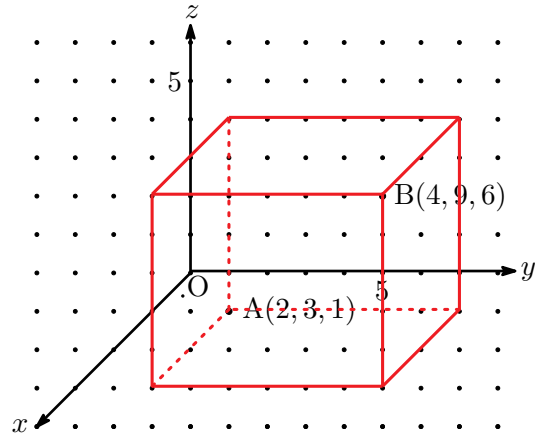
HRNO \_\_\_\_\_

氏名 \_\_\_\_\_

問. 点  $P(3, 4, 5)$  を書き, 線分  $OP$  を対角線とする直方体を図示しなさい。



問. 線分  $AB$  を対角線とする直方体を図示しなさい。



(参考文献：新・高校数学外伝 数学セミナー増刊 1982年)