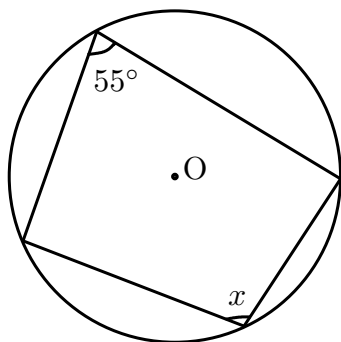
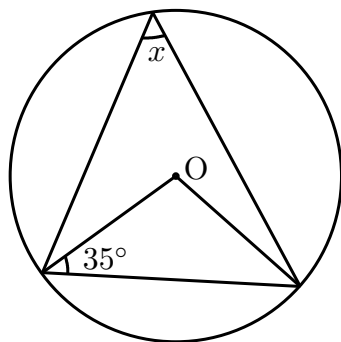
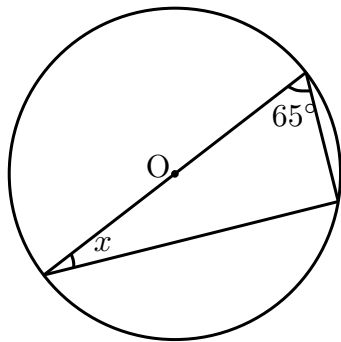
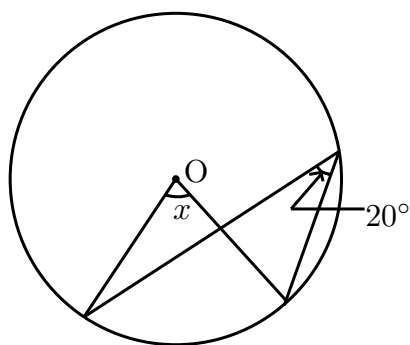


1. 次の図の $\angle x$ の大きさを求めなさい。



	$\angle x =$		$\angle x =$
	$\angle x =$		$\angle x =$

2. 下の図において点 A, B, C, D は円 O の円周上の点です。
このとき $AB=AC$ ならば $\angle ADB = \angle ABC$ を証明しなさい。

